

# QUESTIONNAIRE



**PRODUCTEURS DE  
GRAINS**

**DU QUÉBEC**

Nom :

Date :

# Jeu d'association

Aide le producteur à bien identifier les grains qu'il a récoltés

Dessine un trait entre l'image du grain et son nom



Canola



Soya



Lin



Maïs



Blé

## Défi des grains

Ton nom : \_\_\_\_\_

# Les grains du Québec



## Sa carte d'identité

Nom du grain : \_\_\_\_\_

En 2025, j'étais le grain le plus cultivé au Québec.

Mois des semis : \_\_\_\_\_

Mois de récolte : \_\_\_\_\_

Nomme 2 aliments qui sont faits à base de ce grain :

Nomme 2 bienfaits de consommer ce grain :

Où me cultive-t-on dans le monde ?

Nomme les pays qui en cultivent :

C \_\_\_\_\_ A

É \_\_\_\_\_ - \_\_\_\_\_

B \_\_\_\_\_ L

P \_\_\_\_\_ G \_\_\_\_\_

A \_\_\_\_\_ I \_\_\_\_\_

Comment appelle-t-on ce qu'il reste des graines après qu'on ait enlevé l'huile qu'elles contiennent et qui est très souvent utilisé comme aliment pour les cochons et les poules ?

Ta réponse : T \_\_\_\_\_ T \_\_\_\_\_

## Défi des grains

Ton nom :

# Les grains du Québec



### Sa carte d'identité

Nom du grain : B \_ \_

Je suis l'une des céréales les plus récoltées au monde.

Nomme 3 aliments qui sont faits à base de ce grain :

Quelle partie de ce grain contient du gluten ?



Encercle l'image de ce grain



Sais-tu quels types de blé on cultive au Québec ?

Ta réponse : \_\_\_\_\_

## Défi des grains

Ton nom :

# Les grains du Québec



### Sa carte d'identité

Nom du grain : A \_ \_ \_ \_ \_

Ce grain est aussi utilisé pour fabriquer des cosmétiques.

Mois des semis :

Mois de récolte :

Nomme 1 plat que l'on peut prendre au déjeuner à base de ce grain :

Quand on dit que ce grain donne rapidement un effet de satiété, qu'est-ce qu'on veut dire ? Explique dans tes mots.

**VRAI OU FAUX : ce grain ne contient pas de gluten.**

**VRAI**

**FAUX**



Mon nom :

## On calcule

**Sandy a 12 sacs de soya, 8 sacs de blé, 6 sacs d'orge et 4 sacs d'avoine.**

**1. Combien de sacs a-t-elle en tout ?**

**2. Elle veut partager également ses 12 sacs de soya entre 3 personnes.**

**👉 Combien de sacs de soya chaque personne recevra-t-elle ?**

**3. Sandy vend 2 sacs de soya à 4 \$ chacun et 3 sacs d'avoine à 3 \$ chacun.**

**👉 Combien d'argent gagne-t-elle au total ?**

**4. Sandy a 12 sacs de soya et 8 sacs de blé.**

**👉 Combien de sacs de soya a-t-elle de plus que de sacs de blé ?**



# On calcule

5. Trouve les valeurs qui manquent dans ce tableau et écris-les dans les rectangles verts.

Grain	Nombre de sacs	Prix d'un sac	Valeur totale
Soya	12	4 \$	?
Blé	8	5 \$	?
Orge	6	5 \$	?
Avoine	4	3 \$	?

Jérôme veut semer son champ de la manière suivante :

- 4/10 : en soya
- 2/10 : en blé
- 3/10 : en avoine
- 1/10 : en orge


Champ de Jérôme

Peux-tu l'aider à placer ces différentes cultures dans son champ ?




Utilise tes crayons à colorier :

- **Soya** : en vert
- **Blé** : en jaune
- **Avoine** : en rouge
- **Orge** : en bleu



# L'effet miroir

Dessine l'autre moitié du plant de maïs.




Prénom :

Date :

# Le labyrinthe

Trouve le chemin pour aller entreposer les grains récoltés dans le silo.



NOM:

# DICTÉE TROUÉE

COMPLÈTE LES PHRASES À L'AIDE DE LA BANQUE DE MOTS  
LE NOMBRE DE TIRETS T'INDIQUE LE NOMBRE DE LETTRES DANS LE MOT !

Le temps se réchauffe car le \_\_\_\_\_ est enfin arrivé. Vive le soleil !  
Les producteurs de grains ont hâte de commencer les \_\_\_\_\_.  
C'est le moment de sortir la grosse machinerie, comme le \_\_\_\_\_ qui  
permettra de semer les grains. Savais-tu que l'on peut aussi semer certains  
grains, comme la caméline, avec un \_\_\_\_\_ ?

Les deux grains les plus cultivés au Québec sont le \_\_\_\_\_ et le \_\_\_\_\_-\_\_\_\_\_.  
On les sème à la fin du mois d'avril et au début du mois de \_\_\_\_\_.

Durant l'été, les producteurs ajoutent des \_\_\_\_\_ afin d'aider les plants à  
pousser en santé en leur fournissant les \_\_\_\_\_ nécessaires.

À la fin de l'été, certains plants sont déjà prêts et les \_\_\_\_\_ vont  
commencer. Ce sera le cas du \_\_\_\_\_, de l'\_\_\_\_\_ et de l'\_\_\_\_\_. Les récoltes  
vont se poursuivre pour les autres grains à l'\_\_\_\_\_, des fois même  
jusqu'à l'arrivée de la première neige.

Certains grains auront beaucoup d'humidité et devront passer au \_\_\_\_\_.  
Sinon, les grains pourraient développer des maladies.

Une fois le grain bien séché, il pourra être entreposé dans un \_\_\_\_\_ en  
attendant qu'il soit vendu et livré à un transformateur. Ce dernier pourra en  
faire de la farine, de l'\_\_\_\_\_, du pain, du tofu, de la bière et plus encore  
pour les humains.

On fera aussi de la moulée pour nourrir les animaux (comme les \_\_\_\_\_,  
les porcs et les \_\_\_\_\_). Certains grains seront utilisés dans la fabrication  
de cosmétiques et d'autres pour du \_\_\_\_\_ comme l'éthanol.

## Banque de mots

PRINTEMPS

ORGE

BLÉ

DRONE

SEMOIR

NUTRIMENTS

SOYA

SEMIS

MAÏS-GRAIN

BIOCARBURANT

SILLO

ENGRAIS

HUILE

SÉCHAGE

VACHES

MAI

AVOINE

RÉCOLTES

AUTOMNE

POULES



# Quiz

- ? 1. Qu'est-ce qu'une semence ?
- A) Une roche
  - B) Une graine
  - C) Un insecte
- ? 2. Pourquoi les producteurs préparent-ils la terre ?
- A) Pour jouer dans la boue
  - B) Pour que les plantes poussent mieux
  - C) Pour faire des trous
- ? 3. Comment s'appelle la machine qui plante les graines ?
- A) Une moissonneuse
  - B) Un semoir
  - C) Un camion
- ? 4. Nomme un "ennemi" des plantes :
- A) Les insectes
  - B) Les mauvaises herbes
  - C) Les maladies
  - D) Toutes ces réponses
- ? 5. Quand fait-on la récolte ?
- A) En hiver
  - B) Au printemps
  - C) À la fin de l'été ou en automne
- ? 6. Pourquoi doit-on sécher les grains ?
- A) Pour les réchauffer
  - B) Pour éviter qu'ils moisissent
  - C) Pour les rendre plus lourds